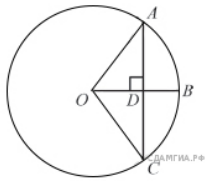


Билет №1

1) Определение многоугольника. Вершины, стороны, диагонали и периметр многоугольника. Формула



суммы углов выпуклого многоугольника

2) Доказать теорему о средней линии треугольника.

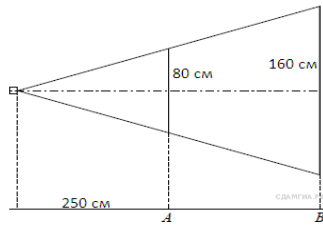
3) Радиус OB окружности с центром в точке O пересекает хорду AC в точке D и перпендикулярен ей. Найдите длину хорды AC , если $BD = 1$ см, а радиус окружности равен 5 см.

4) Периметр прямоугольника равен 56, а диагональ равна 20. Найдите площадь этого прямоугольника.

Билет №2

1) Определение и свойства параллелограмма.

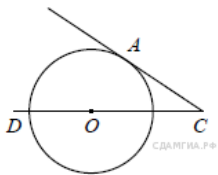
2) Доказать свойство медиан треугольника



3) Проектор полностью освещает экран A высотой 80 см, расположенный на расстоянии 250 см от проектора. На каком наименьшем расстоянии (в сантиметрах) от проектора нужно расположить экран B высотой 160 см,

чтобы он был полностью освещён, если настройки проектора остаются неизменными?

4) Найдите угол ACO , если его сторона CA касается окружности, O — центр окружности, а дуга AD окружности, заключённая внутри этого угла, равна 100° .



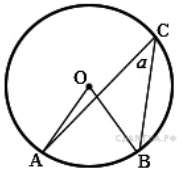
Билет №3

1) Определение и свойства прямоугольника

2) Доказать теорему Пифагора.

3) Найдите величину (в градусах) вписанного угла α , опирающегося на хорду AB , равную радиусу окружности.

4) Прямая, параллельная основаниям MP и NK трапеции $MNKP$, проходит через точку пересечения диагоналей трапеции и пересекает её боковые стороны MN и KP в точках A и B соответственно. Найдите длину отрезка AB , если $MP = 40$ см, $NK = 24$ см.



Билет №4

1) Определение и свойства ромба

2) Доказать теорему о вписанном угле (любой частный случай)

3) Два парохода вышли из порта, следуя один на север, другой на запад. Скорости их равны соответственно 15 км/ч и 20 км/ч. Какое расстояние (в километрах) будет между ними через 2 часа?

4) В треугольнике ABC углы A и C равны 20° и 60° соответственно. Найдите угол между высотой BH и биссектрисой BD .

Билет №5

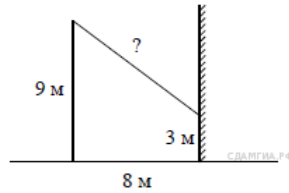
1) Определение трапеции.

Виды трапеций.

2) Доказать свойство отрезков касательных, проведенных к окружности из одной точки.

3) От столба высотой 9 м к дому натянут провод, который крепится на высоте 3 м от земли (см. рисунок). Расстояние от дома до столба 8 м. Вычислите длину провода.

4) Отрезки AB и DC лежат на параллельных прямых, а отрезки AC и BD пересекаются в точке M . Найдите MC , если $AB = 16$, $DC = 24$, $AC = 25$.



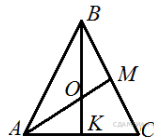
Билет №6

1) Определение подобных треугольников. Признаки подобия треугольников

2) Доказать признак параллелограмма (по точке пересечения диагоналей).

3) В равностороннем треугольнике ABC медианы BK и AM пересекаются в точке O . Найдите $\angle AOK$.

4) Окружность с центром на стороне AC треугольника ABC проходит через вершину C и касается прямой AB в точке B . Найдите AC , если диаметр окружности равен 7,5, а $AB = 2$.



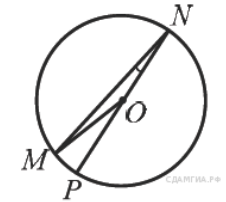
Билет №7

1) Синус, косинус и тангенс острого угла прямоугольного треугольника.

2) Доказать свойство диагоналей параллелограмма.

3) Найдите градусную меру $\angle MON$, если известно, NP — диаметр, а градусная мера $\angle MNP$ равна 18° .

4) В треугольнике ABC отмечены середины M и N сторон BC и AC соответственно. Площадь треугольника CNM равна 57. Найдите площадь четырехугольника $ABMN$.



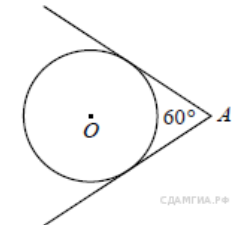
Билет №8

1) Значение синуса, косинуса и тангенса углов $30^\circ, 45^\circ, 60^\circ$.

2) Доказать свойства противоположных сторон и углов параллелограмма.

3) У треугольника со сторонами 16 и 2 проведены высоты к этим сторонам. Высота, проведенная к первой стороне, равна 1. Чему равна высота, проведенная ко второй стороне?

4) Из точки A проведены две касательные к окружности с центром в точке O . Найдите радиус окружности, если угол между касательными равен 60° , а расстояние от точки A до точки O равно 8.



Билет №9

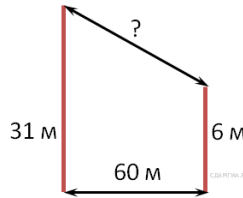
1) Определение секущей и касательной к окружности.

2) Доказать свойство диагоналей прямоугольника.

3) В 60 м одна от другой растут две сосны.

Высота

одной 31 м, а другой — 6 м. Найдите расстояние (в метрах) между их верхушками.

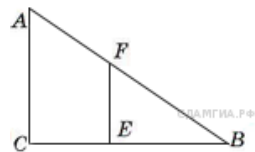


4) Окружность пересекает стороны AB и AC треугольника ABC в точках K и P соответственно и проходит через вершины B и C . Найдите длину отрезка KP , если $AK = 18$, а сторона AC в 1,2 раза больше стороны BC .

Билет №10

1) Определение вписанного и центрального углов окружности.

2) Доказать признак параллелограмма через равенство и параллельность двух противоположных сторон.



3) Человек ростом 1,7 м стоит на расстоянии 8 шагов от столба, на котором висит фонарь. Тень человека равна четырем шагам. На какой высоте (в метрах) расположен фонарь?

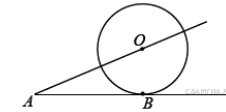
4) Основания равнобедренной трапеции равны 8 и 18, а периметр равен 56. Найдите площадь трапеции.

Билет №11

1) Определение серединного перпендикуляра к отрезку. Свойство серединного перпендикуляра.

2) Вывод формулы площади треугольника. Следствия. Формула Герона (без доказательства).

3) К окружности с центром в точке O проведены касательная AB и секущая AO . Найдите радиус окружности, если $AB = 12$ см, $AO = 13$ см.



4) На сторонах угла BAC и на его биссектрисе отложены равные отрезки AB , AC и AD . Величина угла BDC равна 160° . Определите величину угла BAC .

Билет №12

1) Определение окружности, вписанной в многоугольник. Многоугольник, описанный около окружности.

Свойство описанного четырехугольника.

2) Доказать свойства диагоналей ромба.

3) Найдите периметр прямоугольного участка земли, площадь которого равна 800 м^2 и одна сторона в 2 раза больше другой. Ответ дайте в метрах.

4) Окружность проходит через вершины A и C треугольника ABC и пересекает его стороны AB и BC в точках K и E соответственно. Отрезки AE и CK перпендикулярны. Найдите $\angle KCB$, если $\angle ABC = 20^\circ$.

Билет №13

- 1) Определение окружности, описанной около многоугольника. Многоугольник, вписанный в окружность. Свойства четырехугольника, вписанного в окружность.
- 2) Доказать свойство биссектрисы угла.
- 3) В прямоугольном треугольнике один из катетов равен 10, а угол, лежащий напротив него, равен 45° . Найдите площадь треугольника.
- 4) Биссектрисы углов A и B параллелограмма $ABCD$ пересекаются в точке K . Найдите площадь параллелограмма, если $BC = 19$, а расстояние от точки K до стороны AB равно 7.

Билет №14

- 1) Окружность вписанная в треугольник. Окружность описанная около треугольника. Нахождение центров этих окружностей.
- 2) Свойство углов при основании равнобедренной трапеции.
- 3) В выпуклом четырехугольнике $ABCD$ $AB = BC$, $AD = CD$, $\angle B = 60^\circ$, $\angle D = 110^\circ$. Найдите угол A . Ответ дайте в градусах.
- 4) Найдите отношение двух сторон треугольника, если его медиана, выходящая из их общей вершины, образует с этими сторонами углы в 30° и 90° .

Билет №15

- 1) Теорема Фалеса.
- 2) Свойство отрезков пересекающихся хорд.
- 3) Сторона ромба равна 34, а острый угол равен 60° . Высота ромба, опущенная из вершины тупого угла, делит сторону на два отрезка. Каковы длины этих отрезков?
- 4) Высота треугольника разбивает его основание на два отрезка с длинами 8 и 9. Найдите длину этой высоты, если известно, что другая высота треугольника делит ее пополам.